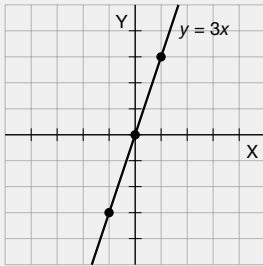


Funciones lineales y no lineales

1. a)

x	-1	0	1
y	-3	0	3

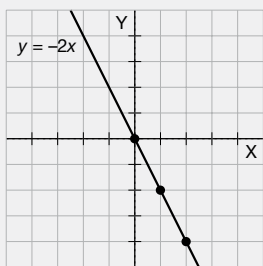
La pendiente de la recta es 3.



b)

x	0	1	2
y	0	-2	-4

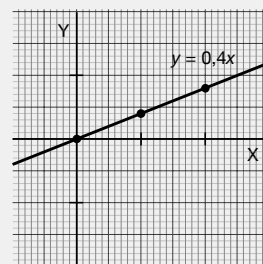
La pendiente de la recta es -2.



c)

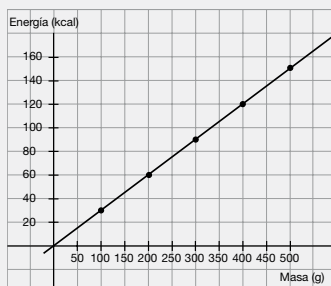
x	0	1	2
y	0	0,4	0,8

La pendiente de la recta es 0,4.



2.

Masa en g (x)	100	200	300	400	500
Energía en kcal (y)	30	60	90	120	150



$$m = \frac{y}{x} = \frac{30}{100} = \frac{3}{10}$$

La pendiente es $\frac{3}{10}$.

3. Las funciones lineales son:

a) $m = -9$

c) $m = 0,8$

e) $m = 0,5$

4. a) $\frac{1,5}{2} = \frac{2,25}{3} = \frac{3,75}{5} = \frac{6}{8} = 0,75$

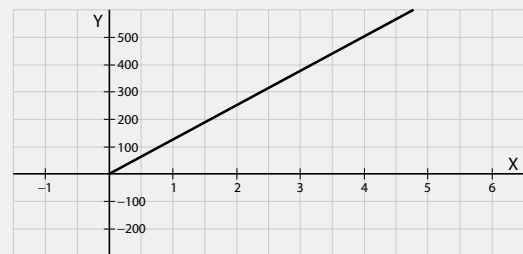
La expresión algebraica de la función es $y = 0,75x$.

b) $\frac{-1,5}{1} = \frac{-3}{2} = \frac{-4,5}{3} = \frac{-6}{4} = -1,5$

La expresión algebraica es $y = -1,5x$.

5. La función que representa el número de piezas fabricadas (y) en función del tiempo de trabajo (t), en horas, es:

$$y = 125 \cdot t$$



6. — Gráfica azul:

Pasa por (0, 0).

Consideramos el punto (3, 2).

La expresión algebraica es $y = \frac{2}{3}x$

— Gráfica roja:

Pasa por (0, 0).

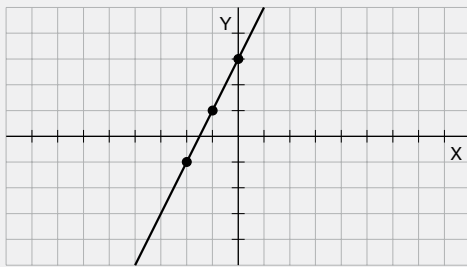
Consideramos el punto (1, -3).

$$m = -3$$

La expresión algebraica es $y = -3x$

7. a)

x	-2	-1	0
y	-1	1	3

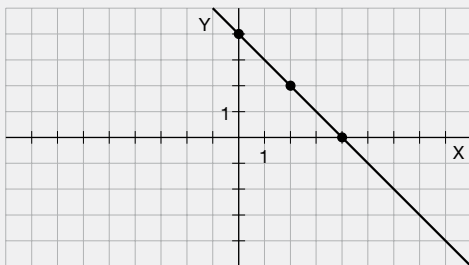


Pendiente: 2

Ordenada en el origen: 3

b)

x	0	2	4
y	4	2	0

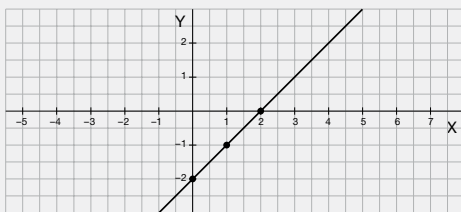


Pendiente: -1

Ordenada en el origen: 4

c)

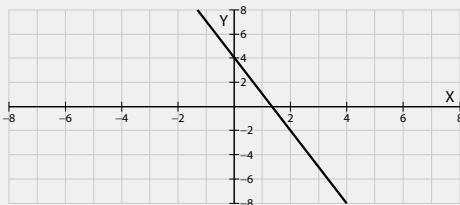
x	0	1	2
y	-2	-1	0



Pendiente: 1

Ordenada en el origen: -2

8. $y = -3x + 4$



9. Pendiente: $m = \frac{1-3}{2-1} = -2$

$y = -2x + b$

Consideramos el punto (1, 3).

$$3 = -2 \cdot 1 + b \rightarrow 3 = -2 + b \rightarrow b = 5$$

La expresión algebraica de la función es $y = -2x + 5$.

10. Ordenada en el origen:

$$(0, -1) \rightarrow b = -1$$

$$y = mx - 1$$

Para calcular la pendiente consideramos el punto (-3, 0):

$$0 = -3m - 1 \rightarrow 3m = -1 \rightarrow m = -\frac{1}{3}$$

La expresión algebraica de la función es:

$$y = -\frac{1}{3}x - 1$$

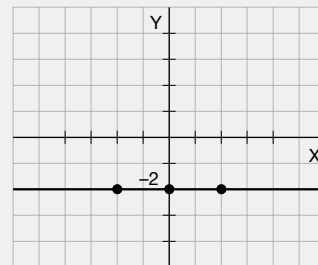
11.

Ocupantes	1	2	3	4	5
Importe (€)	5	5	5	5	5

$y = 5$

12. a)

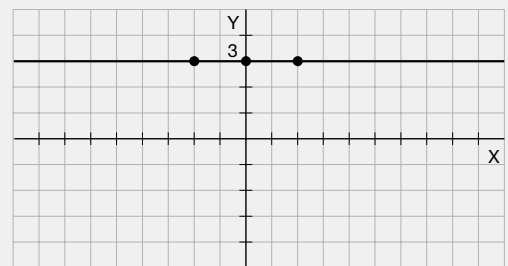
x	-2	0	2
y	-2	-2	-2



Ordenada en el origen: -2

b)

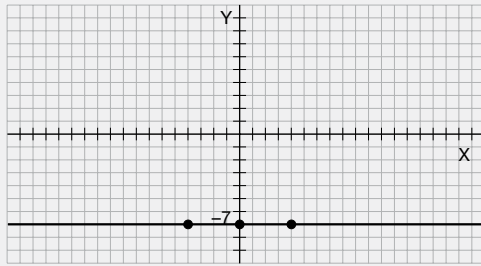
x	-2	0	2
y	3	3	3



Ordenada en el origen: 3

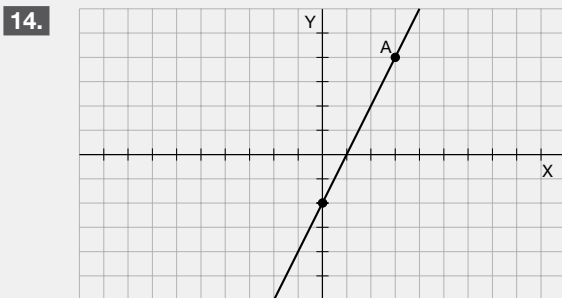
c)

x	-4	0	4
y	-7	-7	-7



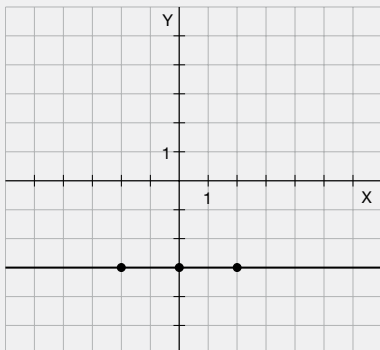
Ordenada en el origen: -7

13. $y = -1, y = 2.$



15. a)

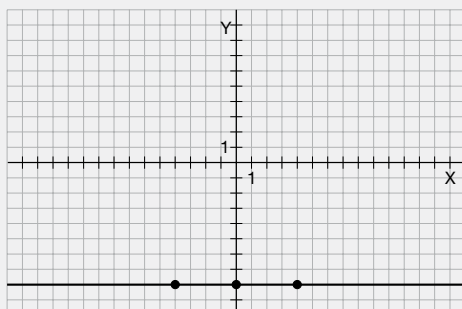
x	-2	0	2
y	-3	-3	-3



Es paralela al eje de abscisas.

b)

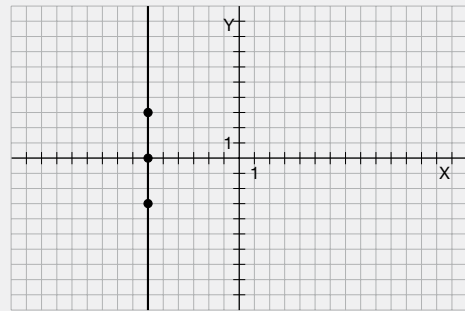
x	-4	0	4
y	-8	-8	-8



Es paralela al eje de abscisas.

c)

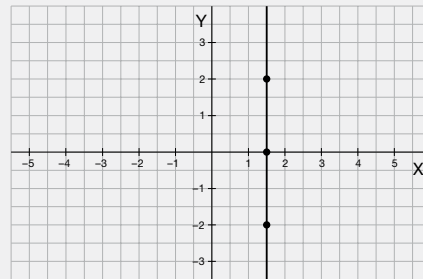
x	-6	-6	-6
y	-3	0	3



Es paralela al eje de ordenadas.

d)

x	1,5	1,5	1,5
y	2	0	-2



Es paralela al eje de ordenadas.

16. Calculamos la recta que pasa por dos de los puntos y, después, comprobamos si el tercero verifica la ecuación de esa recta:

$$\frac{9-3}{1-(-1)} = \frac{y-3}{x-(-1)} \Rightarrow y = 3x + 6$$

$$C(4,2) \rightarrow 2 \neq 3 \cdot 4 + 6$$

Por lo tanto, los tres puntos no están alineados.

17. a) Resulta el sistema:

$$\left. \begin{aligned} -1 &= 2m + b \\ 3 &= 4m + b \end{aligned} \right\}$$

Lo resolvemos y obtenemos $m = 2$ y $b = -5$.

La ecuación de la recta es $y = 2x - 5$.

- b) Resulta el sistema:

$$\left. \begin{aligned} 2 &= -3m + b \\ -4 &= m + b \end{aligned} \right\}$$

Al resolver obtenemos $m = -\frac{3}{2}$ y $b = -\frac{5}{2}$.

La ecuación de la recta es $y = -\frac{3}{2}x - \frac{5}{2}$.

18. $m = -6$

$$y = -6x + b$$

$$-6 = -6 \cdot 1 + b; -6 = -6 + b; b = 0$$

La ecuación de la recta es $y = -6x$.

19. $m = 1$

$$y = x + b; -3 = 2 + b; b = -3 - 2 = -5$$

La ecuación de la recta es $y = x - 5$.

20. $y = mx + 3$

$$-1 = m \cdot 1 + 3; m = -1 - 3 = -4$$

La ecuación de la recta es $y = -4x + 3$.

21. a) $\frac{-8 - 4}{2 - 0} = \frac{y - 4}{x - 0} \Rightarrow y = -6x + 4$

b) $10 = -6 \cdot (-1) + 4$

Por tanto, el punto pertenece a la recta.

c) $y = -6x - 3$

22. $y = 3x - 5$

23. a) Puntos: A (-3, 0) y B (0, 4)

Recta que pasa por dos puntos:

$$\frac{y - 0}{4 - 0} = \frac{x - (-3)}{0 - (-3)}$$

Ecuación punto - pendiente: $y = \frac{4}{3}(x + 3)$

Ecuación explícita: $y = \frac{4}{3}x + 4$

Ecuación general: $-\frac{4}{3}x + y - 4 = 0$

b) Puntos: A (0, 4) y B (3, 0)

Recta que pasa por dos puntos:

$$\frac{y - 4}{0 - 4} = \frac{x - 0}{3 - 0}$$

Ecuación punto - pendiente: $y - 4 = -\frac{4}{3}x$

Ecuación explícita: $y = -\frac{4}{3}x + 4$

Ecuación general: $\frac{4}{3}x + y - 4 = 0$

24. a) $y = -x + 5$

b) $y - 0 = 2(x - 7)$

c) $\frac{y - 0}{-3 - 0} = \frac{x - 0}{-2 - 0}$

25. a) $y = 3x + 1; y = 3x + 7$

b) $y = 6x; y = 6x - 2$

c) $y = -x; y = -x + 4$

d) $y = \frac{1}{3}x; y = \frac{1}{3}x + 1$

26. Las a) y la c).

27. Tiene las ramas orientadas hacia abajo. Corta el eje OX en los puntos (-1, 0) y (3, 0) y el eje OY en el punto (0, 3). Las coordenadas del vértice son (1, 4).

- Respuesta gráfica.

28. a) Tiene las ramas orientadas hacia arriba. b) No corta al eje OX y corta al eje OY en el punto (0, 1). c) Las coordenadas del vértice son (0, 5; 0, 5). d) Presenta un mínimo absoluto en el punto (0, 5; 0, 5).

29. a) $y = x^2 - x$

Vértice: $x = \frac{-b}{2a} = \frac{1}{2}$,

$$y = \left(\frac{1}{2}\right)^2 - \frac{1}{2} = -\frac{1}{4} \Rightarrow \left(\frac{1}{2}, -\frac{1}{4}\right)$$

Eje de simetría: $x = \frac{-b}{2a} = \frac{1}{2}$

Punto de corte con el eje OY:

$$x = 0 \rightarrow y = 0 \rightarrow (0, 0)$$

Puntos de corte con el eje OX:

$$x^2 - x = 0 \rightarrow x_1 = 0 \quad x_2 = 1 \rightarrow (0, 0) (1, 0)$$

b) $y = x^2 + 3$

Vértice: $x = \frac{-b}{2a} = 0, y = 3 \rightarrow (0, 3)$

Eje de simetría: $x = \frac{-b}{2a} = 0$

Punto de corte con el eje OY:

$$x = 0 \rightarrow y = 3 \rightarrow (0, 3)$$

Puntos de corte con el eje OX:

$$x^2 + 3 = 0 \rightarrow \text{No tiene puntos de corte.}$$

c) $y = -2x^2 + 2x$

Vértice: $x = \frac{-b}{2a} = \frac{-2}{-4} = \frac{1}{2}, y = \frac{1}{2}$

Eje de simetría: $x = \frac{-b}{2a} = \frac{-2}{-4} = \frac{1}{2}$

Punto de corte con el eje OY:

$$x = 0 \rightarrow y = 0 \rightarrow (0, 0)$$

Puntos de corte con el eje OX:

$$-2x^2 + 2x = 0 \rightarrow -2x(x - 1) = 0 \rightarrow x_1 = 0 \quad x_2 = 1 \rightarrow (0, 0) (1, 0)$$

d) $y = -x^2 - 2x + 6$

Vértice: $x = \frac{-b}{2a} = \frac{2}{-2} = -1,$

$$y = -1 + 2 + 6 = 7 \rightarrow (-1, 7)$$

Eje de simetría: $x = \frac{-b}{2a} = \frac{2}{-2} = -1$

Punto de corte con el eje OY:

$$x = 0 \rightarrow y = 6 \rightarrow (0, 6)$$

Puntos de corte con el eje OX:

$$-x^2 - 2x + 6 = 0 \rightarrow x_1 = -3,65;$$

$$x_2 = 1,65 \rightarrow (-3,65, 0) (1,65, 0)$$

e) $y = -3x^2 + 6x$

Vértice: (1, 3)

Eje de simetría: recta $x = 1$

Puntos de corte el eje OX: (0, 0) y (2, 0)

Punto de corte con el eje OY: (0, 0).

- 30.** a) Corta el eje OX en los puntos (-2, 0) y (-1, 0) y el eje OY en el punto (0, 2).

Por lo tanto, $c = 2$.

$$ax^2 + bx + 2 = 0 \rightarrow$$

$$\left. \begin{aligned} (-2)^2 a - 2b + 2 = 0 \\ (-1)^2 a - 1b + 2 = 0 \end{aligned} \right\} \rightarrow \left. \begin{aligned} 2a - b + 1 = 0 \\ a - b + 2 = 0 \end{aligned} \right\} \rightarrow$$

$$\rightarrow a = 1, b = 3$$

b) $y = x^2 + 3x + 2 = 0 \rightarrow (-2)^2 + 3 \cdot (-2) + 2 = 4 - 6 + 2 = 0$ y $(-1)^2 + 3(-1) + 2 = 1 - 3 + 2 = 0$.

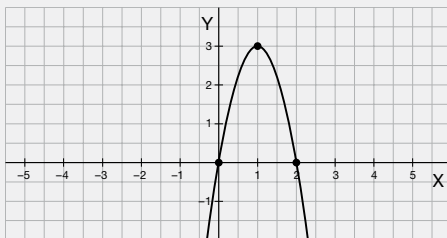
- 31.** a) $y = -3x^2 + 6x$

Vértice: $x = \frac{-b}{2a} = \frac{-6}{-6} = 1 \rightarrow y = 3 \rightarrow (1, 3)$

Corte con el eje OY: $x = 0 \rightarrow y = 0 \rightarrow (0, 0)$

Cortes con el eje OX:

$$-3x^2 + 6x = 0 \rightarrow x_1 = 0; x_2 = 2 \rightarrow (0, 0) (2, 0)$$



Las soluciones de las ecuaciones de segundo grado son (0, 0) y (2, 0).

b) $y = 3x^2$

Vértice: $x = \frac{-b}{2a} = 0 \rightarrow y = 0 \rightarrow (0, 0)$

Corte con el eje OY: $x = 0 \rightarrow y = 0 \rightarrow (0, 0)$

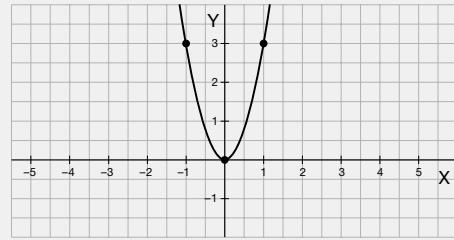
Cortes con el eje OX:

$$3x^2 = 0 \rightarrow x = 0 \rightarrow (0, 0)$$

Podemos determinar dos puntos más:

$$x = 1 \rightarrow y = 3 \rightarrow (1, 3)$$

$$x = -1 \rightarrow y = 3 \rightarrow (-1, 3)$$



La solución de la ecuación de segundo grado es (0, 0).

c) $y = x^2 + 3x + 6$

Vértice: $x = \frac{-b}{2a} = -\frac{3}{2} = -1,5 \rightarrow y = 3,75 \rightarrow (-1,5, 3,75)$

(-1,5, 3,75)

Corte con el eje OY: $x = 0 \rightarrow y = 6 \rightarrow (0, 6)$

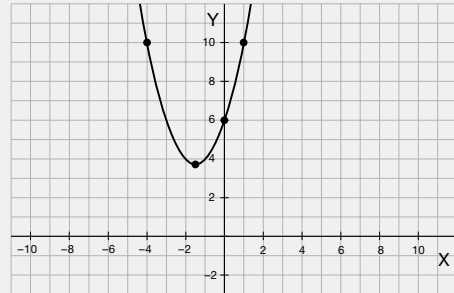
Cortes con el eje OX:

$$x^2 + 3x + 6 = 0 \rightarrow \text{No tiene solución.}$$

Podemos determinar dos puntos más:

$$x = 1 \rightarrow y = 10 \rightarrow (1, 10)$$

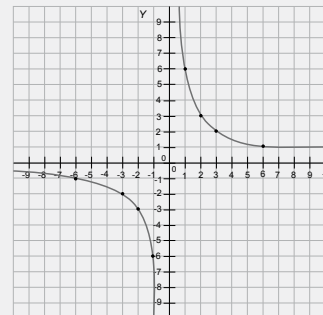
$$x = -4 \rightarrow y = 10 \rightarrow (-4, 10)$$



La ecuación de segundo grado no tiene solución.

32.

x	-6	-3	-2	-1	1	2	3	6
y	-1	-2	-3	-6	6	3	2	1

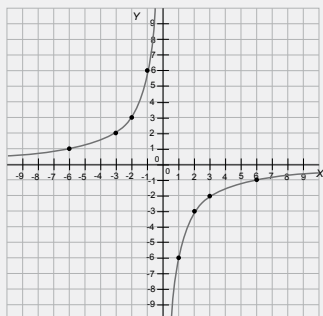


a) El valor $x = 0$, pues una fracción no puede tener denominador 0.

b) Es simétrica respecto al punto (0,0).

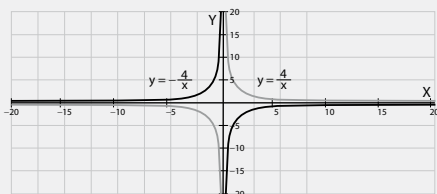
33.

x	-6	-3	-2	-1	1	2	3	6
y	1	2	3	6	-6	-3	-2	-1



— La gráfica de la actividad 32 es decreciente y la gráfica de la actividad 33 es creciente.

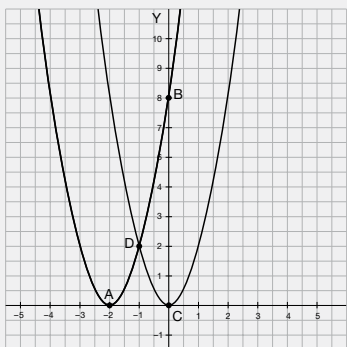
- 34.** Son hipérbolas equiláteras pero en distintos cuadrantes.



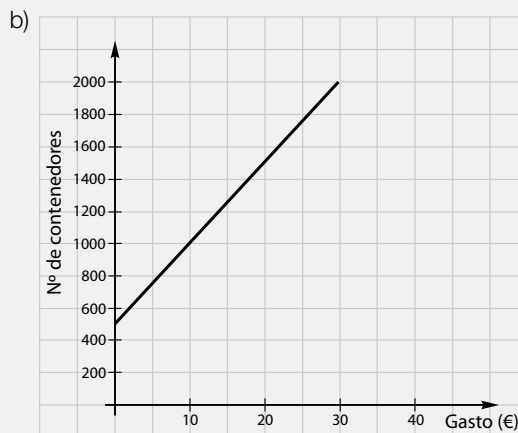
- 35.** a) En primer lugar representamos gráficamente la función $y = 2x^2 + 8x + 8$, parábola a.
Con la opción *Intersección de dos objetos*, seleccionando la función y el eje OX, se obtiene el punto A (-2, 0), vértice y corte con el eje OX. Si se seleccionan la función y el eje OY se obtiene el punto B (0, 8).

b) Al desplazar la función hasta el punto C (0, 0), se obtiene la nueva parábola, cuya expresión algebraica es $y = 2x^2$, parábola b.

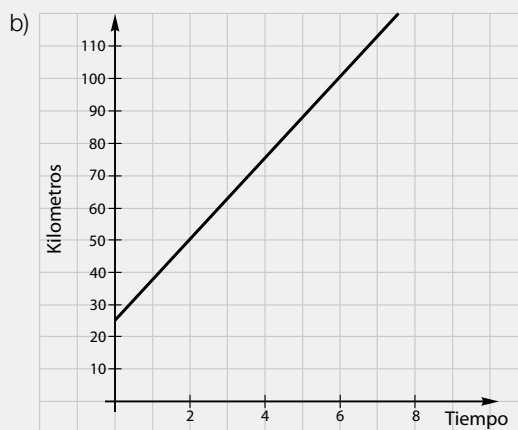
- c) Con la opción *Intersección de dos objetos*, seleccionando las dos funciones se obtiene el punto en que se cortan las parábolas a y b, D (-1, 2).



- 36.** a) $y = 50x + 500$, donde x representa el número de contenedores recogidos e y el coste de la campaña.



- 37.** a) $y = 25 + 15t$, donde t representa el tiempo transcurrido e y la distancia al punto de partida del camino.

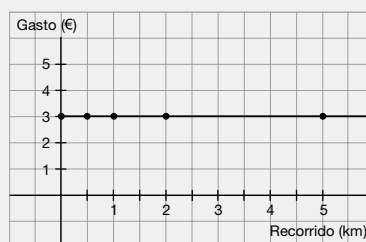


Actividades finales

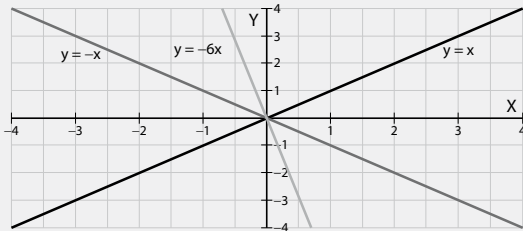
- 38.** a) $y = 3x$; lineal
b) $y = x^2$
c) $y = \frac{x}{2} + 5$; lineal

39.

Gasto (€)	3	3	3	3	3
Recorrido (km)	0	0,5	1	2	5



40. a) $m = 1$
 b) $m = -1$
 c) $m = -6$



41. $m = -\frac{3}{4}$

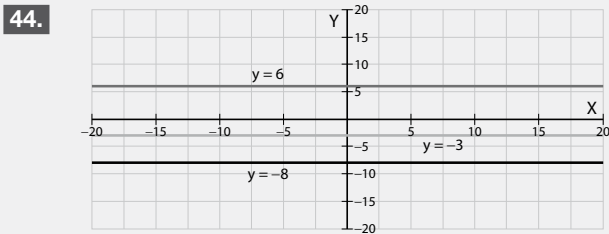
42. Lineal: d ; Afín no lineal: a ; constante: b ; no es función: c .

43. La gráfica de la función lineal pasa por el punto $(2, 6)$ y, por lo tanto, cumple:

$$y = mx; 6 = 2m \rightarrow m = 3$$

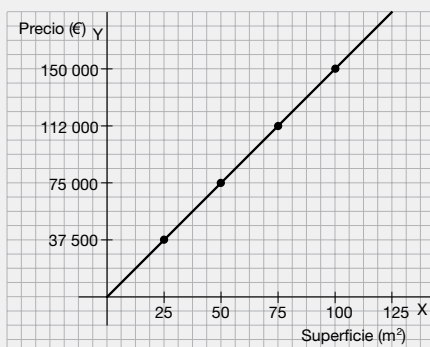
La función lineal es $y = 3x$.

- a) $6 \neq 3 \cdot 4$. No pertenece.
 b) $3 = 3 \cdot 1$. Sí pertenece.
 c) $4 \neq 3 \cdot 2$. No pertenece.



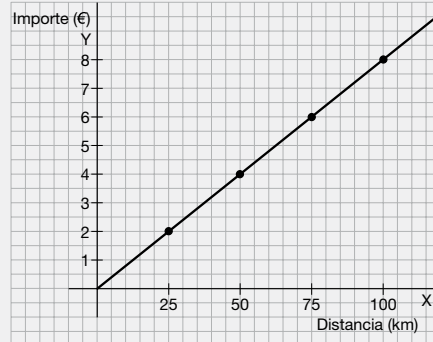
45. a)

Superficie en m^2 (x)	25	50	75	100
Precio en euros (y)	37500	75000	112500	150000

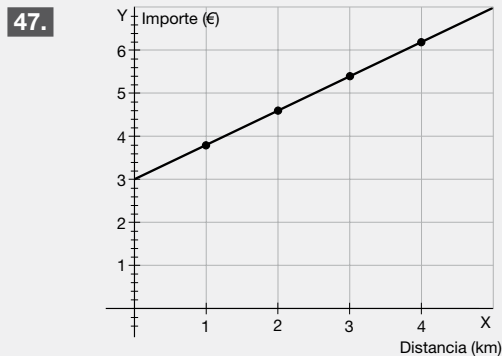


b)

Distancia en km (x)	25	50	75	100
Importe en euros (y)	2	4	6	8



46. Compañía A: $y = 15$, función constante.
 Compañía B: $y = 0,10x$, función lineal.
 Compañía C: $y = 0,05x + 5$, función afín.



– Una función afín no lineal.

– Pendiente: $m = \frac{4,6 - 3,8}{2 - 1} = 0,8$

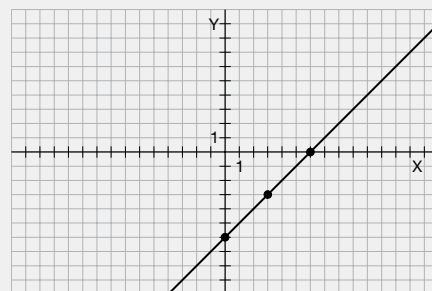
Ordenada en el origen: $y = 0,8x + b$;

$$3,8 = 0,8 \cdot 1 + b; b = 3$$

La pendiente es 0,8 y la ordenada en el origen es 3.

48. a)

x	0	3	6
y	-6	-3	0

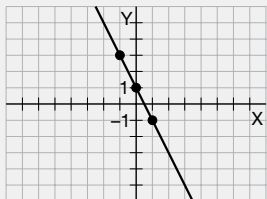


Pendiente: 1

Ordenada en el origen: -6

b)

x	-1	0	1
y	3	1	-1

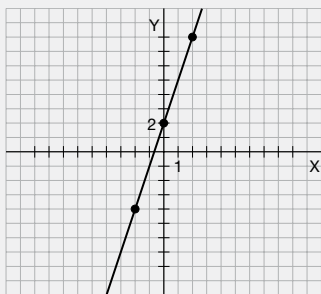


Pendiente: -2

Ordenada en el origen: 1

c)

x	-2	0	2
y	-4	2	8



Pendiente: 3

Ordenada en el origen: 2

49. a) $11,25$ cm.

b) De julio a diciembre.

c) $Dom f = [E, D]$

$Im f = [0, 30]$.

d) Sí.

50. a) Como son funciones a trozos, interpolamos cada recta por separado.

Trozo A: pasa por $(-1, -2)$ y $(1, 4)$

$$\left. \begin{array}{l} -2 = -a + b \\ 4 = a + b \end{array} \right\} \Rightarrow a = 3; b = 1$$

Trozo B: es constante $y = 4$

Trozo C: pasa por $(5, 4)$ y $(8, 1)$

$$\left. \begin{array}{l} 4 = 5a + b \\ 1 = 8a + b \end{array} \right\} \Rightarrow a = -1; b = 9$$

Por lo tanto, la función es:

$$\left\{ \begin{array}{ll} 3x + 1 & x < 1 \\ 4 & 1 \leq x \leq 5 \\ -x + 9 & x > 5 \end{array} \right.$$

b) Trozo A: pasa por $(-4, 7)$ y $(1, 2)$

$$\left. \begin{array}{l} 7 = -4a + b \\ 2 = a + b \end{array} \right\} \Rightarrow a = -1; b = 3$$

Trozo B: pasa por $(1, 2)$ y $(5, 6)$

$$\left. \begin{array}{l} 2 = a + b \\ 6 = 5a + b \end{array} \right\} \Rightarrow a = 1; b = 1$$

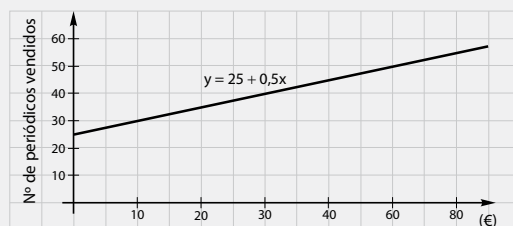
Trozo C: pasa por $(5, 6)$ y $(8, 3)$

$$\left. \begin{array}{l} 6 = 5a + b \\ 3 = 8a + b \end{array} \right\} \Rightarrow a = -1; b = 11$$

Por lo tanto, la función es:

$$\left\{ \begin{array}{ll} -x + 3 & x < 1 \\ x + 1 & 1 \leq x \leq 5 \\ -x + 11 & x > 5 \end{array} \right.$$

51. a) $y = 25 + 0,5x$, donde x representa el número de periódicos vendidos e y el dinero recibido al mes (en €).



b) $185 = 25 + 0,5x$; $x = 320$ periódicos.

52. Dos rectas paralelas tienen la misma pendiente.

53. Una vez realizadas las operaciones, la ecuación es:

$$y = \left(-\frac{2}{5}\right)x + \frac{9}{5}$$

54. $-y = 3$

$$-x = -1$$

$$-b = -2$$

$$0 = m - 2 \rightarrow m = 2$$

$$y = 2x - 2$$

55. a) Resulta el sistema:

$$\left\{ \begin{array}{l} 10 = -m + b \\ -17 = 2m + b \end{array} \right.$$

Lo resolvemos y obtenemos $b = 1$ y $m = -9$.

La ecuación de la recta es $y = -9x + 1$.

b) $m = 7$

$$y = 7x + b$$

$$-1 = 7 \cdot 5 + b \rightarrow -1 = 35 + b \rightarrow b = -36$$

La ecuación de la recta es $y = 7x - 36$.

c) $b = -5$

$$y = mx - 5$$

$$-1 = 3m - 5 \rightarrow 4 = 3m \rightarrow m = \frac{4}{3}$$

La ecuación de la recta es $y = \frac{4}{3}x - 5$.

d) $m = 2$

$$y = 2x + b$$

$$5 = 2 \cdot 8 + b \rightarrow 5 = 16 + b \rightarrow -11 = b$$

La ecuación de la recta es $y = 2x - 11$.

56. $\frac{1-2}{3-(-5)} = \frac{y-1}{x-3} \Rightarrow y = \left(-\frac{1}{8}\right)x + \frac{11}{8}$

57. a) Resulta el sistema:

$$\begin{cases} -3 = -m + b \\ 9 = m + b \end{cases}$$

Lo resolvemos y obtenemos $b = 3$ y $m = 6$.

La expresión algebraica de la función es:

$$y = 6x + 3.$$

b) Resulta el sistema:

$$\begin{cases} 3 = -2m + b \\ -6 = 4m + b \end{cases}$$

Lo resolvemos y obtenemos $b = 0$ y $m = -\frac{3}{2}$.

La expresión algebraica de la función es:

$$y = -\frac{3}{2}x$$

c) Resulta el sistema:

$$\begin{cases} -1 = -4m + b \\ 5 = 7m + b \end{cases}$$

Lo resolvemos y obtenemos $b = \frac{168}{11}$ y $m = \frac{6}{11}$.

La expresión algebraica de la función es:

$$y = \frac{6}{11}x + \frac{168}{11}$$

d) Resulta el sistema:

$$\begin{cases} \frac{3}{2} = \frac{1}{2}m + b \\ 0 = -m + b \end{cases}$$

Lo resolvemos y obtenemos $b = 1$ y $m = 1$.

La expresión algebraica de la función es:

$$y = x + 1$$

58. Substituimos los valores en la expresión $y = ax + b$

$$\begin{cases} 5 = a + b \\ 3 = 2a + b \end{cases}$$

Donde obtenemos, por reducción, $a = -2$ y $b = 7$

Se obtiene la expresión $y = -2x + 7$

59. Si el coeficiente a de una función de segundo grado es 0, la función pasa a ser una función afín.

60. $y = x^2 - 8x + 1$

$$\text{Vértice: } x = \frac{-b}{2a} = \frac{8}{2} = 4, y = 16 - 32 + 1 =$$

$$= -15 \rightarrow (4, -15)$$

Punto de corte con el eje OY:

$$x = 0 \rightarrow y = 1 \rightarrow (0, 1)$$

Puntos de corte con el eje OX:

$$x^2 - 8x + 1 = 0 \rightarrow x_1 = 7,88; x_2 = 0,13 \rightarrow (7,88, 0) (0,13, 0)$$

61. a) $y = 3x^2 - 5x + 1$

$$\text{Vértice: } x = \frac{-b}{2a} = \frac{5}{6} = 0,84,$$

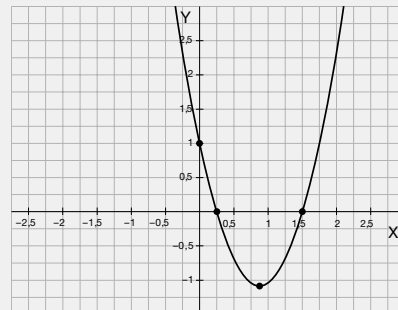
$$y = -1,08 \rightarrow (0,84, -1,08)$$

Punto de corte con el eje OY:

$$x = 0 \rightarrow y = 1 \rightarrow (0, 1)$$

Puntos de corte con el eje OX:

$$3x^2 - 5x + 1 = 0 \rightarrow x_1 = 0,23 \quad x_2 = 1,43 \rightarrow (0,23, 0) (1,43, 0)$$



b) $y = -x^2 + 3x - 4$

$$\text{Vértice: } x = \frac{-b}{2a} = \frac{-3}{-2} = 1,5$$

$$y = -1,75 \rightarrow (1,5, -1,75)$$

Punto de corte con el eje OY:

$$x = 0 \rightarrow y = -4 \rightarrow (0, -4)$$

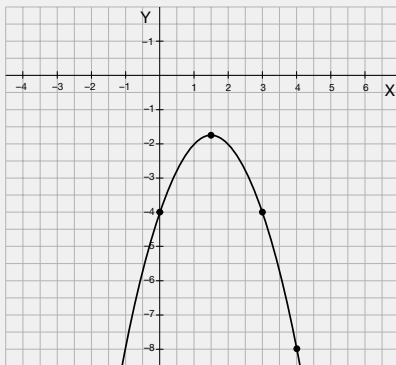
Puntos de corte con el eje OX:

$$-x^2 + 3x - 4 = 0 \rightarrow \text{No tiene solución}$$

Podemos determinar dos puntos más:

$$x = 3 \rightarrow y = -4 \rightarrow (3, -4)$$

$$x = 4 \rightarrow y = -8 \rightarrow (4, -8)$$



62. $y = -x^2 + 8x - 8$

$$\text{Vértice: } x = \frac{-b}{2a} = \frac{-8}{-2} = 4, y = -16 + 32 - 8 =$$

$$= 8 \rightarrow (4, 8)$$

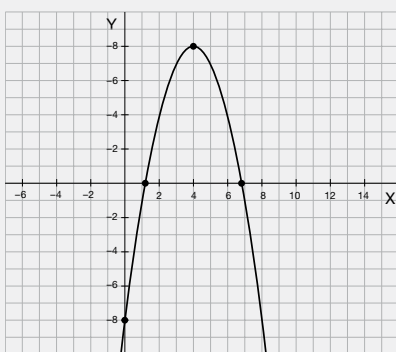
$$\text{Eje de simetría: } x = \frac{-b}{2a} = 4$$

Punto de corte con el eje OY:

$$x = 0 \rightarrow y = -8 \rightarrow (0, -8)$$

Puntos de corte con el eje OX:

$$-x^2 + 8x - 8 = 0 \rightarrow x_1 = 6,83; x_2 = 1,17 \rightarrow (6,83, 0) (1,17, 0)$$



63. a) $x \cdot y = 18$

x	1	2	3
y	18	9	6

b) $f(x) = \frac{18}{x}$

c) Respuesta gráfica.

64. a) Vértice: $x = \frac{-b}{2a} = \frac{-(-2)}{-8} = \frac{-1}{4}$

$$y = -4 \cdot \left(\frac{-1}{4}\right)^2 - 2 \cdot \frac{-1}{4} = -4 \cdot \frac{1}{16} + \frac{2}{4} =$$

$$= \frac{-1}{4} + \frac{2}{4} = \frac{1}{4} \Rightarrow \left(\frac{-1}{4}, \frac{1}{4}\right)$$

Puntos de corte con el eje OX

$$-4x^2 - 2x = 0 \rightarrow -2x(2x + 1) = 0 \rightarrow$$

$$\rightarrow x_1 = 0, x_2 = \frac{-1}{2}$$

Puntos de corte con el eje OY: (0,0).

$$\text{Dom } f = \mathbb{R}.$$

$$\text{Im } f = \left(-\infty, \frac{1}{4}\right).$$

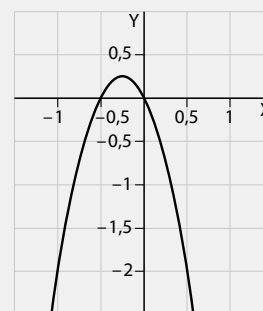
Es continua en su dominio.

$$\text{Es creciente en } \left(-\infty, \frac{-1}{4}\right) \text{ y decreciente en } \left(\frac{-1}{4}, +\infty\right).$$

$$\text{Tiene un máximo en } \left(\frac{-1}{4}, \frac{1}{4}\right).$$

Presenta una simetría en relación a la recta

$$x = \frac{-1}{4}.$$



b) Vértice: $x = -\frac{6}{6} = -1$

$$y = 3 \cdot (-1)^2 + 6 \cdot (-1) + 4 =$$

$$= 1 \Rightarrow (-1, 1).$$

Puntos de corte con el eje OX:

$$3x^2 + 6x + 4 = 0 \rightarrow x = \frac{-6 \pm \sqrt{36 - 48}}{6} \rightarrow$$

$$\rightarrow x = \frac{-6 \pm \sqrt{-12}}{6}$$

Por lo tanto, no corta el eje OX.

Puntos de corte con el eje OY: (0,4).

$$\text{Dom } f = \mathbb{R}.$$

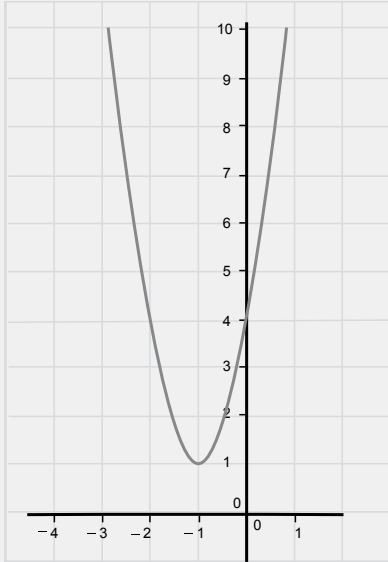
$$\text{Im } f = [1, +\infty).$$

Es continua en su dominio.

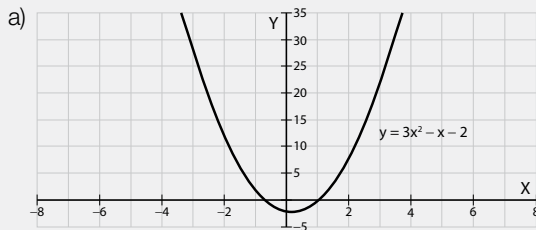
$$\text{Es decreciente en } (-\infty, -1) \text{ y creciente en } (-1, +\infty).$$

Tiene un mínimo en $(-1, 1)$.

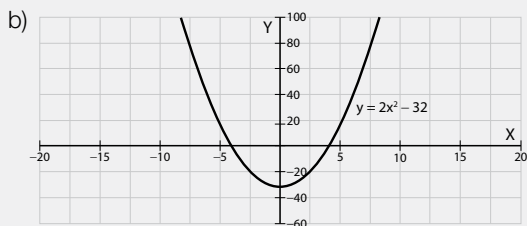
Presenta una simetría en relación a la recta $x = -1$.



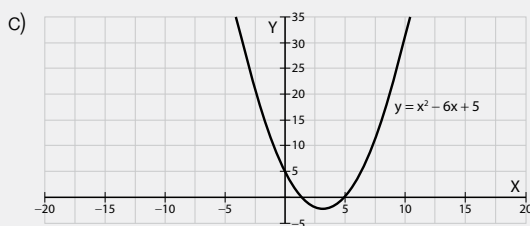
65.



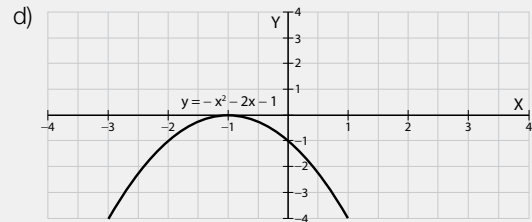
$$x = -\frac{2}{3}; x = 1; V\left(\frac{1}{6}, -\frac{25}{12}\right)$$



$$x = 4; x = -4; V(0, -32)$$

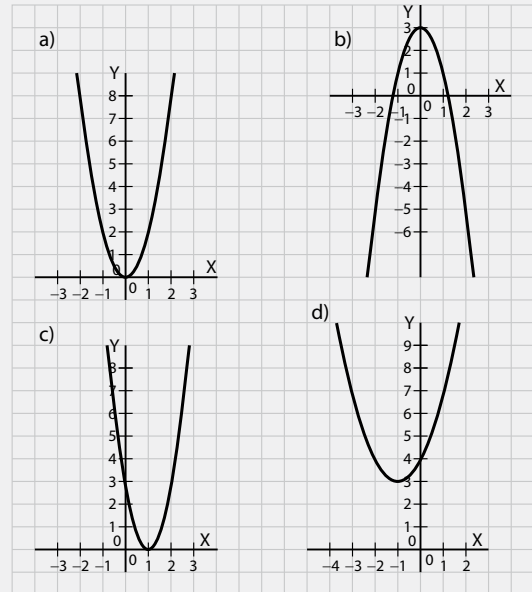


$$x = 1; x = 5; V(3, -4)$$



$$x = -1; V(-1, 0)$$

66.



67.

- a) $V(2, -1)$
 b) $x = 2$
 c) $y = 3$
 d) $(x - 1) \cdot (x - 3) = x^2 - 4x + 3$

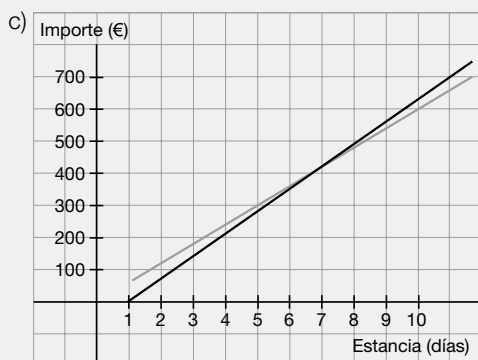
68.

Número de días	Importe Hotel La Laguna (€)	Importe Hotel El Mar (€)
1	(0)	(60)
2	(70)	(120)
3	(140)	180
4	(210)	240
5	(280)	300
6	350	360
7	420	420
8	490	480
9	560	540
10	630	600

Los valores entre paréntesis indican la estancia mínima en cada uno de los hoteles.

- b) $x \rightarrow$ número de días de estancia en el hotel
 $y \rightarrow$ importe en euros
 Hotel La Laguna: $y = 70x - 70$.

Hotel El Mar: $y = 60x$.



d) Importe en euros del Hotel La Laguna al cabo de 5 días:

$$5 \cdot 70 - 70 = 280 \text{ €}$$

Importe en euros del Hotel El Mar al cabo de 5 días:

$$5 \cdot 60 = 300 \text{ €}$$

e) El Hotel El Mar resulta más económico al cabo de los 8 días de estancia.

f) Ha estado en el Hotel El Mar 8 días.

69. a) $t = 5 \text{ min} = 300 \text{ s}$

$$e = v \cdot t = 1,5 \cdot 300 = 450$$

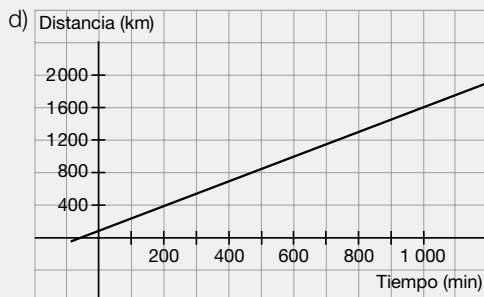
$$e_s = 450 + 100 = 550$$

Recorrerá 450 m y se encontrará a 550 m de la señal.

b) $300 = 1,5 \cdot t \rightarrow t = \frac{300}{1,5} = 200$

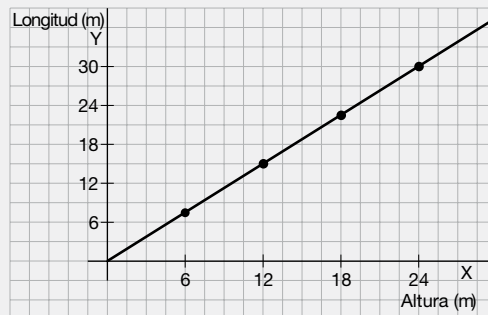
Al cabo de 3 min 20 s.

c) $e = 1,5 \cdot t + 100$



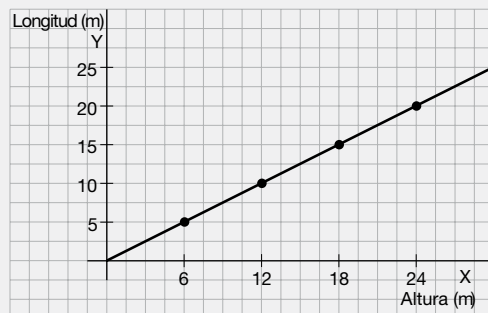
70.

Altura del edificio en metros (x)	6	12	18	24
Longitud de la sombra a las 8 de la mañana en metros (y)	7,5	15	22,5	30



Pendiente: $\frac{30}{24} = \frac{5}{4}$

Altura del edificio en metros (x)	6	12	18	24
Longitud de la sombra a las 10 de la mañana en metros (y)	5	10	15	20



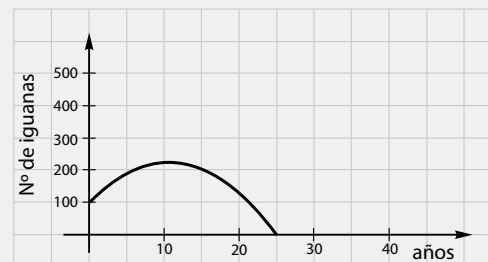
Pendiente: $\frac{20}{24} = \frac{5}{6}$

A las 11 de la mañana, el sol está más alto, por lo que la pendiente de la función es menor y, por lo tanto, las sombras serán menores.

71. a) $m = \frac{15}{100} = 0,15$

b) Peligro debido a la alta pendiente.

72. Usamos la gráfica de la función para responder a las preguntas:



- a) Para $t = 11$ años se obtiene el máximo de la población de iguanas, por lo tanto, el número de ejemplares crece durante 11 años.
- b) Si resolvemos la ecuación $-t^2 + 22t + 112 = 0$, se obtiene que se extienden a los 26,26 años.

73. Tenemos que calcular $f(t) = 0$

$$420 - 6t = 0$$

$$6t = 420$$

$$t = \frac{420}{6} = 70\text{s}$$

Por lo tanto, el tiempo que tarda el terremoto en ser registrado en la estación es de 1 minuto y 10 segundos.

74. La función es el área del triángulo rectángulo. Así,

$$f(x) = \frac{x(2x + 4)}{2} = \frac{2x^2 + 4x}{2} = x^2 + 2x$$

$\text{Dom } f = (0, +\infty)$, debido a que el lado del triángulo debe ser un número positivo.

$$\text{Im } f = (0, +\infty).$$

Puntos de corte con el eje OX:

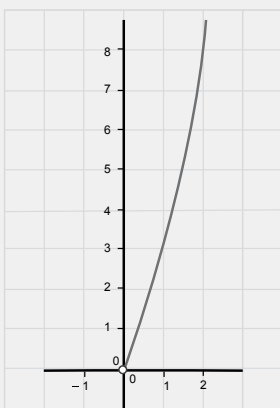
$$x^2 + 2x = 0 \rightarrow x(x+2) = 0 \rightarrow x_1 = 0; x_2 = -2$$

Puntos de corte con el eje OY: $y = 0$

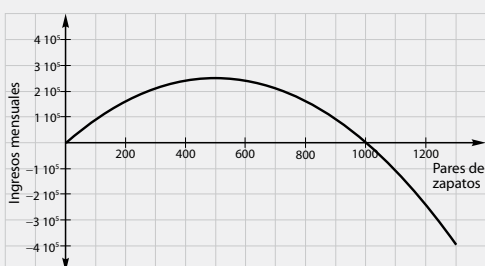
No representamos los puntos de corte con el eje OX ni el punto de corte con el eje OY porque no pertenecen al dominio de la función.

$$f(0) = 0, f(1) = 3 \text{ y } f(2) = 8,$$

La gráfica de la función es:



75.



a) El mayor ingreso se obtiene fabricando 500 pares de zapatos.

$$I(125) = 109\,375 \text{ €}$$

$$I(375) = 234\,375 \text{ €}$$

c) A partir de 1 000 pares.

76. El punto A pertenece a la parábola. Así, las coordenadas del punto A son (x, x^2) .

$$\text{El perímetro del rectángulo es } P = x^2 + x^2 + x + x = 2x^2 + 2x$$

Como el perímetro del rectángulo es 12 cm, tenemos que:

$$2x^2 + 2x = 12$$

$$2x^2 + 2x - 12 = x^2 + x - 6 = 0$$

$$x = \frac{-1 \pm \sqrt{1 + 24}}{2} = \frac{-1 \pm 5}{2} \rightarrow x_1 = 2, x_2 = -3$$

Como la longitud del rectángulo tiene que ser positiva, descartamos la solución $x_2 = -3$. Así, las dimensiones del rectángulo son 2 cm y 4 cm.

Por lo tanto, el área del rectángulo es

$$A = 2 \cdot 4 = 8 \text{ cm}^2.$$

77. Primero tenemos que determinar el punto de corte con el eje OX:

$$-\frac{1}{2}x^2 + 3x = 0 \rightarrow x\left(-\frac{1}{2}x + 3\right) = 0 \rightarrow$$

$$\rightarrow x_1 = 0, x_2 = 6$$

Así, la base mayor mide 6 cm y la base menor mide la mitad, esto es, 3 cm.

El área del trapecio isósceles es:

$$A = \frac{6 + 3}{2} \cdot 4 = 9 \cdot 2 = 18 \text{ cm}^2$$

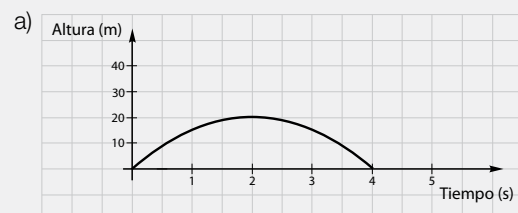
78. A partir de las expresiones de los capitales, a interés simple, de Mónica y Paco, en función del número de años (n) que tengan el dinero en depósito:

$$M(n) = 1\,500 \cdot (1 + 0,06n)$$

$$P(n) = 2\,000 \cdot (1 + 0,04n)$$

Si igualamos ambas expresiones: $n = 50$ años.

79.

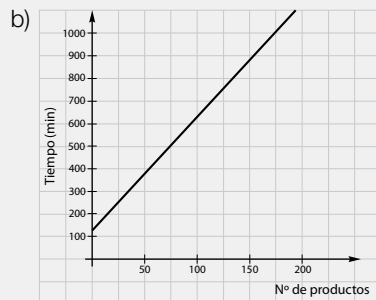


- b) $Dom\ h = [0,4]$
 c) La altura máxima que alcanza son 20 m a los 2 s del lanzamiento.
 d) A los 4 s.
 e) Si $h = 15$; $15 = 20t - 5t^2$; $t = 1$ y $t = 3$.

Es decir, el objeto está a una altura igual o mayor de 15 m entre los instantes $t = 1$ s y $t = 3$ s después de haberse lanzado.

Pon a prueba tus competencias

- 1.** a) 50 m
 b) $50 + 10 = 60$ m
 c) $20 + 110 + 10 = 140$ m
 d) $50 \cdot 0,2 = 10$ m
- 2.** a) $t = 5x + 120$, donde x representa el número de productos marcados y t , el tiempo de espera de cada cliente (en segundos).



- c) Como por cada cliente se tardan 120 s y en ticar cada producto 5 s:

$$t = 5x + 360$$

Para $x = 60$ productos; $t = 660$ s = 11 min.

- 3.** a) 2 €/kg
 b) 6 €
 c) 1 €/kg
 d) 11€
 e) $0 \leq x \leq 5$

La pendiente es: $m = \frac{10 - 0}{5 - 0} = 2$. La expresión

algebraica de la función es $y = 2x + n$.

La recta pasa por (0,0). Por lo tanto, $y = 2x$.

$x > 5$:

La pendiente es: $m = \frac{11 - 10}{6 - 5} = 1$. La expresión

algebraica de la función es $y = x + n$.

La recta pasa por (6,11), así: $11 = 6 + n \rightarrow n = 5$.

Por lo tanto, $y = x + 5$.

La expresión algebraica definida a trozos es:

$$f(x) = \begin{cases} 2x & \text{si } 0 \leq x \leq 5 \\ x + 5 & \text{si } x > 5 \end{cases}$$

- 4.** a) 2 m
 b) 6 m
 c) 8 m
 d) 3 m
 e) El perímetro del aro es $P = \frac{0,9\pi}{2} = 0,45\pi$. Así, el diámetro del aro es 0,45 m.